

# ПОРА ЗАНЯТЬСЯ МАТЕМАТИКОЙ!



Группа № 5 «Сказка»

Воспитатель: Брызгина М.В.

# СРАВНЕНИЕ ПО ВЫСОТЕ «НА ГЛАЗ»



Рассмотри пары картинок. Обведи


тот гриб, который ниже



ту неваляшку, которая выше





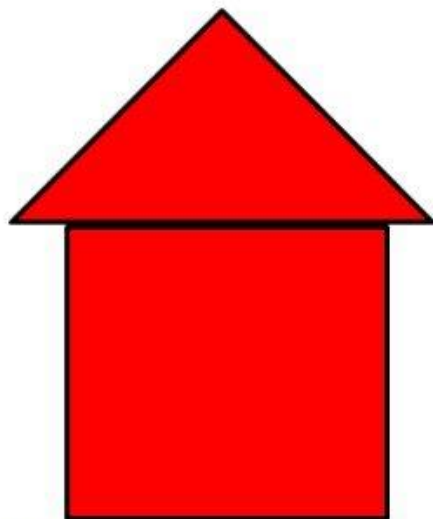
того пингвина, который ниже




ту пирамидку, которая выше



- Красный домик выше зелёного, но ниже жёлтого. Какой домик самый высокий? Какой домик самый низкий?




Покажи самую низкую елочку, среднюю, самую высокую. Какой грибок под какой елочкой растет?



Покажи, какая бабочка на какой цветок сядет?  
Покажи самую большую бабочку, среднюю, самую маленькую.



Тема: **БОЛЬШОЙ—МАЛЕНЬКИЙ**



Однажды гномам подарили игрушки. Гномики думали, как их поделить между собой? И решили так: **большие** игрушки достанутся Желтому Гному, а **маленькие** — Зеленому Гномику. Помогите им разделить игрушки: раскрасьте кружки около больших игрушек в желтый цвет, а около маленьких — в зеленый. Посмотрите на большую пирамидку и скажите, какого цвета кольцо над маленьким красным колечком? Над большим красным кольцом? Какого цвета самое маленькое кольцо у этой пирамидки?

Найди и покажи деревья от самого высокого до самого низкого.




## ВЫСОКИЙ-НИЗКИЙ



Как-то раз на прогулке повстречались жираф и собачка. Жираф высокий, а собачка низкая. Собачка голову кверху подняла и говорит: «Здравствуй, жираф!». А жираф смотрит на собачку сверху вниз и отвечает: «Здравствуй, собачка!». Так и подружились.

Покажите, кто на картинке высокий, а кто низкий.

## ВВЕРХУ-ВНИЗУ


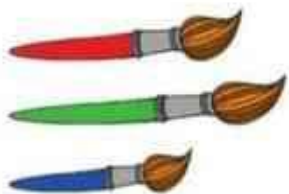


Медвежата качаются на качелях. Кач-кач! То один вверху оказывается, то другой. Вверх-вниз! Кач-кач! Нравится медвежатам качаться.

Покачайте малыша, приговаривая: «Вверх-вниз, кач-кач!». Попросите его показать, какой медвежонок наверху, а какой внизу. Спросите, как медвежата качаются (кач-кач!).


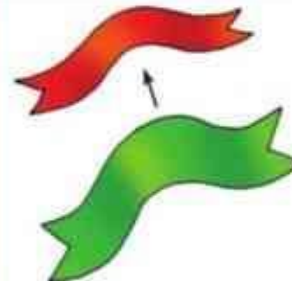
**20.** Расскажи, что нарисовано на картинках, используя слова:

размер  
длиннее — короче  
шире — уже  
выше — ниже



11

**21.** Что изменяется?



12












Сколько всего матрёшек? Какая по счёту матрёшка в зелёном платочке?  
В синем платочке?





Уравняй таблицу. Дорисуй недостающие предметы.

1			
			
3			
			
5			
			





**ВСЕ  
СПРАВИЛИСЬ С  
ЗАДАНИЕМ?**

**МОЛОДЦЫ!**

